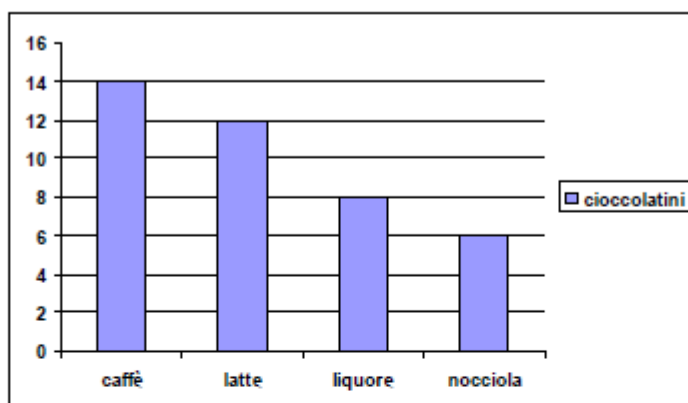


C7. Il grafico mostra il numero dei cioccolatini di diversi gusti contenuti in una scatola.

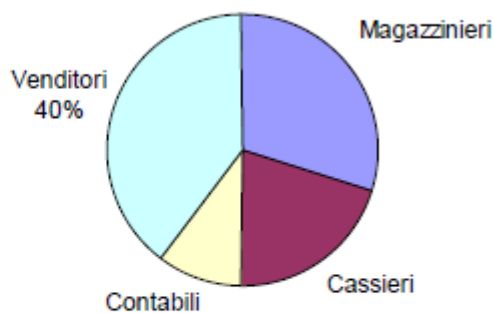


Prendendo un cioccolatino a caso, qual è la probabilità di scegliere un cioccolatino alla nocciola?

- A.  $\frac{6}{14}$
- B.  $\frac{6}{40}$
- C.  $\frac{6}{34}$
- D.  $\frac{1}{4}$

C21. In una grande libreria gli impiegati sono così suddivisi:

Mansione	Numero di impiegati
Magazzinieri	?
Cassieri	4
Venditori	8
Contabili	2

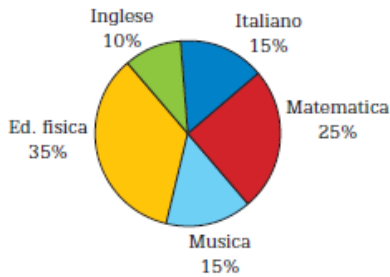


Qual è il numero dei magazzinieri?

Risposta \_\_\_\_\_

Scrivi il procedimento che hai seguito.

- 15 L'aerogramma mostra i risultati di un'indagine sulla materia preferita condotta su un campione di 300 studenti di una scuola media di 800 alunni. Da quale delle seguenti tabelle è stato ricavato questo aerogramma?



- A Tabella B  
 B Tabella A  
 C Tabella C  
 D Tabella D

Tabella A

Materia preferita	Frequenze assolute
Italiano	120
Matematica	200
Musica	120
Ed. fisica	280
Inglese	80

Tabella B

Materia preferita	Frequenze assolute
Italiano	40
Matematica	80
Musica	40
Ed. fisica	150
Inglese	25

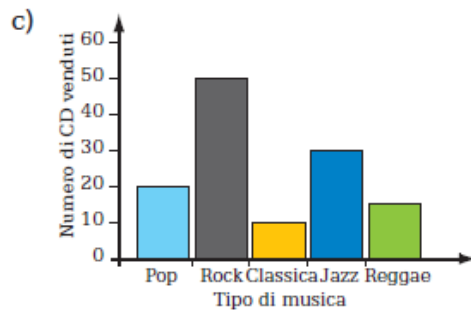
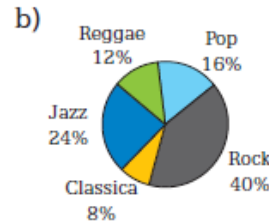
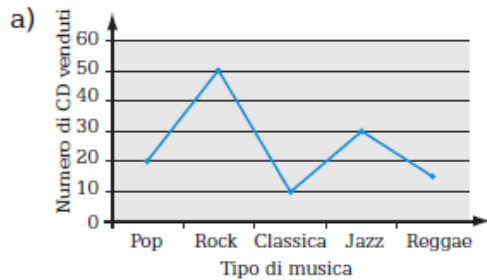
Tabella C

Materia preferita	Frequenze assolute
Italiano	45
Matematica	75
Musica	45
Ed. fisica	105
Inglese	30

Tabella D

Materia preferita	Frequenze assolute
Italiano	15
Matematica	25
Musica	15
Ed. fisica	35
Inglese	10

- 12 Il proprietario di un negozio di CD musicali ha fatto un'indagine per vedere quale tipo di musica è più gradita ai suoi clienti. Quale grafico non è adatto per rappresentare i risultati dell'indagine?



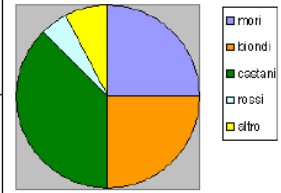
d) = 10 CD

Tipo di musica	Numero di CD venduti
Pop	
Rock	
Classica	
Jazz	
Reggae	

- A d)  
 B c)  
 C b)  
 D a)

1. Osserva il grafico. Qual è la percentuale di persone del gruppo esaminato, che ha i capelli biondi?

- Non si può determinare.
- 25 %
- 10 %
- 50 %

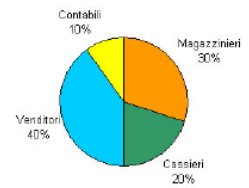


In una grande libreria gli impiegati sono suddivisi come indicato in figura.

Qual è il numero di magazzinieri?

\_\_\_\_\_

Mansione	Numero di impiegati
Magazzinieri	?
Cassieri	4
Venditori	8
Contabili	2



4. Il direttore di un negozio vuole sapere quanti computer con hard disk da 250 GB (gigabyte) sono stati venduti nell'ultimo trimestre. In riferimento a tale periodo, l'addetto commerciale fornisce i dati rappresentati nel grafico e nella tabella.

Quanti computer con hard disk da 250 GB sono stati venduti?

- 140
- 35
- 100
- 40

